

MARZO 2020

Nombre: _____

DOMINGO

6º PRIMARIA

LUNES

MARTES

MIÉRCOLES

JUEVES

VIERNES

SÁBADO

2
¿Cuánto falta para llegar a 9 CM?
6CM Y 5DM

3

Día mundial de la naturaleza
¿Cuál es su doble?
0,739

4
Calcula
 35^2
 $3,5^2$
 350^2

5
Escribe el número de UMM y la cifra de las UMM
60 345 789


6
Si a 8U le quitas 6,3U 17d
¿Cuánto queda?

7
Calcula:
 $\frac{4}{16}$ de 200

8
Reduce la fracción al máximo.
 $\frac{60}{54}$
Día Internacional de la mujer 

9
¿Por qué números es divisible?
252


10
Suma:
3d 2,6c

11
¿Cuál es su mitad?
735,9
Día víctimas contra el terrorismo. 

12
Descompón para que tengas decenas y décimas.
8

13
Calcula
 $\frac{3}{6} + \frac{6}{4} - \frac{2}{8}$


14
Escribe 4 números entre estos dos,
0.29U 2.8d

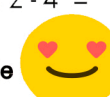
15
¿Cuántos cuartos de litro hay en...?
530 cl
Día Derchos del consumidor 


16
Redondea los números a la UM y a la centena más próxima
8541

17
Descompón en factores primos
378

18
Di un frasco de perfume contine 24cl. ¿Cuántos cl tendrán...?
12 frascos

19
¿Cuánto es el 21% de...?
450€
Día del Padre 


20
Calcula:
 $5 + 3 \times 6 : 2 - 4 =$
 $(5 + 3) \times 6 : 2 - 4 =$
Día Mundial de la Felicidad 

21
Calcula
 $0,24 \times 0,3$
Día del Síndrome de Dawn 

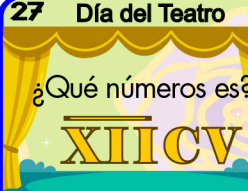
22
Día Mundial del Agua
Halla el mínimo común múltiplo
42 y 63 

23
Escribe en números romanos
6785

24
 $8541 : 52$
¿Es una división exacta?

25
 $64,64 - 18,18$
Día contra la trata de seres humanos 

26
¿Cuántas cifras tendrán los cocientes de...?
 $57800 : 5$
 $57800 : 7$
 $57800 : 0,5$

27
Día del Teatro
¿Qué números es?
XIII CV 

28
¿Es lo mismo?
 $\frac{6}{4}$ que $1 \frac{3}{4}$

29
Calcula
 $3^2 + 5^2$

30
¿Que número falta para que sean equivalentes?
 $\frac{4}{16}$ ¿? $\frac{?}{8}$

31
¿Qué número es?
3.7 DM
3.7 CM
3.7 UM

Me gusta actiludis para estar al día de novedades gratuitas y originales.