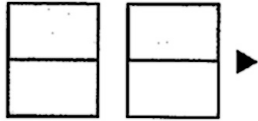


Fracciones propias e impropias.

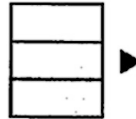
Números mixtos

Nombre _____ Fecha _____

1 Escribe cada fracción representada e indica si es propia o impropia.



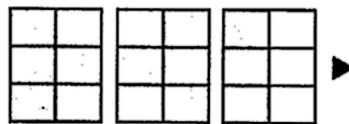
Es una fracción _____



Es una fracción _____



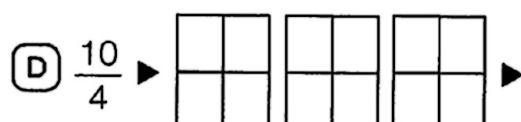
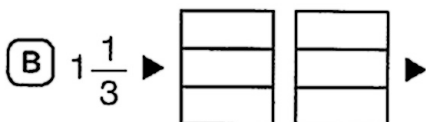
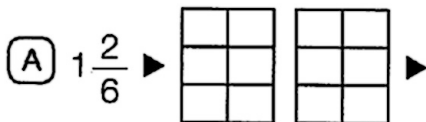
Es una fracción _____



Es una fracción _____

- ¿Qué fracciones puedes expresar con un número mixto? Rodéalas.

2 Representa y escribe en forma de fracción o de número mixto.



3 Lee y contesta.

Juan ha hecho varias tortillas iguales y ha partido cada una en 6 trozos iguales. Ha puesto 10 trozos en un plato y 2 tortillas y dos trozos en una fuente.



(A) ¿Qué fracción de tortilla ha puesto en el plato? ▶

¿Cuántas tortillas enteras y trozos son? ▶

(B) ¿Qué número mixto indica la tortilla que ha puesto en la fuente? ▶

¿Qué fracción de tortilla es? ▶

¿Cuántos trozos de tortilla son? ▶