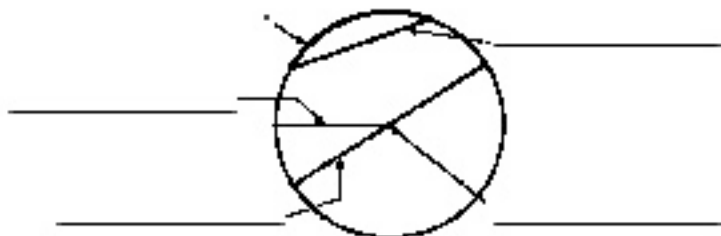
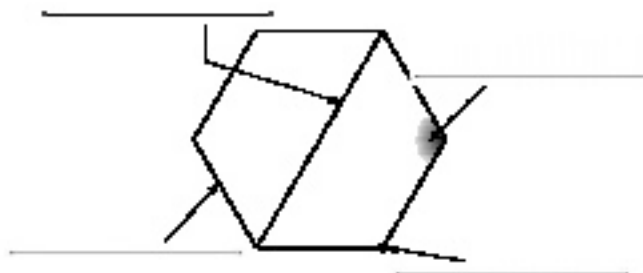


Apellidos:

Nombre:

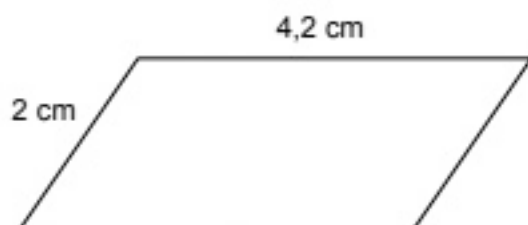
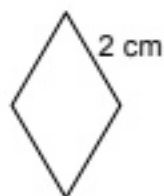
1. Escribe el nombre de los elementos marcados.



2. Completa la tabla con los nombres de los polígonos según el número de lados.

	triángulo							
n.º de lados	3	4	5	6	7	8	9	

3. Calcula el perímetro de los siguientes polígonos.



4. Dibuja un círculo de 1,5 cm de radio y señala un semicírculo, un sector circular y un segmento circular.

5. Dibuja un rombo cuyas diagonales midan 2 y 3 cm, y calcula su perímetro.